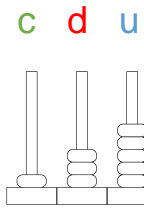
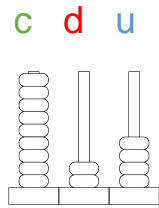


Numération – Les nombres de 100 à 999

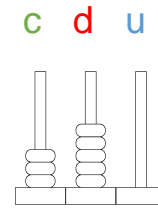
1. Ecris le nombre correspondant sous chaque abaque.



135

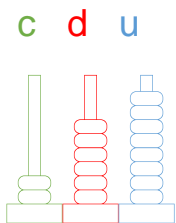


924

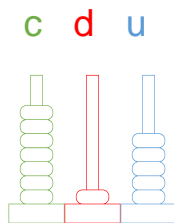


350

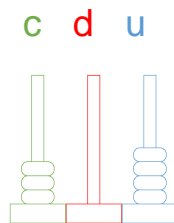
2. Dessine les boules sur chaque abaque selon le nombre demandé.



268



715



304

3. Donne la décomposition en unités de numération pour chaque nombre.

Exemple : 345, c'est 3 c, 4 d et 5 u.

- 286, c'est 2 c, 8 d et 6 u.
- 763, c'est 7 c, 6 d et 3 u.

Bonus : ✨

- 620, c'est 6 c, 2 d et 0 u.
- 500, c'est 5 c, 0 d et 0 u.

4. Convertis. Tu peux t'aider du tableau de conversion ci-dessous ou refaire le tableau sur ton ardoise.

c	d	u

3 c = 300 u

4 d = 40 u

200 u = 2 c

60 d = 6 c

50 u = 5 d

80 d = 800 u