



Géométrie - Les segments


1. Mesure les segments ci-dessous:



[AB] mesure



[CD] mesure



[EF] mesure



[GH] mesure

2. Trace :

- un segment [IJ] qui mesure 7 cm :
- un segment [KL] qui mesure 12 cm :
- un segment [MN] qui mesure 4 cm et 5 mm :
- un segment [OP] qui mesure 8 cm et 7 mm :