

**CALCUL MENTAL**

Donner un nombre compris entre 8 et 14. Ex : 11.  
 Écrire une écriture additive du nombre. (6 + 5).  
 (Travail par deux.)

\_\_\_\_\_

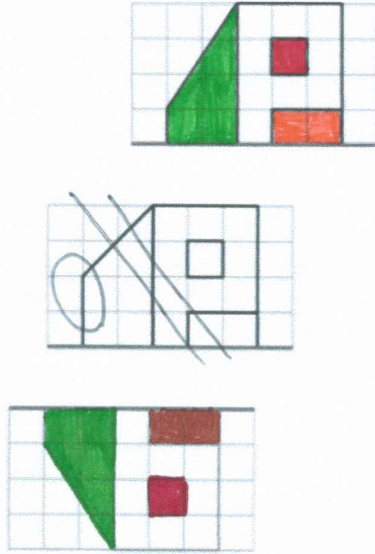
\_\_\_\_\_

\_\_\_\_\_

\_\_\_\_\_

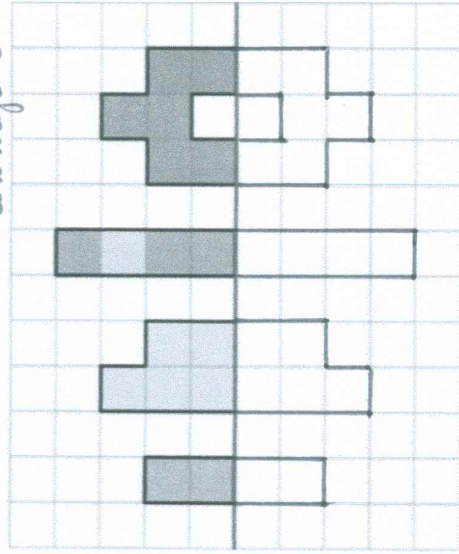
\_\_\_\_\_

**6** Quel dessin complète la maison par symétrie ? **Colorie-la.**




\*\*

**7** Dessine les figures symétriques. *Je vous laisse le coloriage !!*



\*\*

**4** Coche les images qui ont un axe de symétrie.

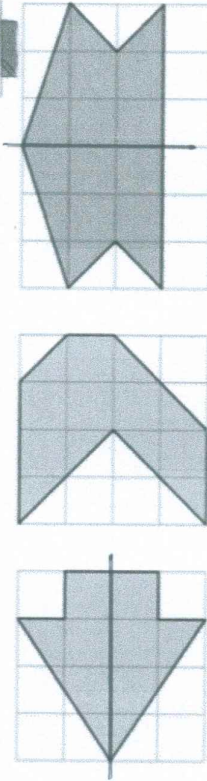


\*

**5** Trace l'axe de symétrie de chaque figure quand il y en a un.



Tu peux utiliser le papier calque.



\*