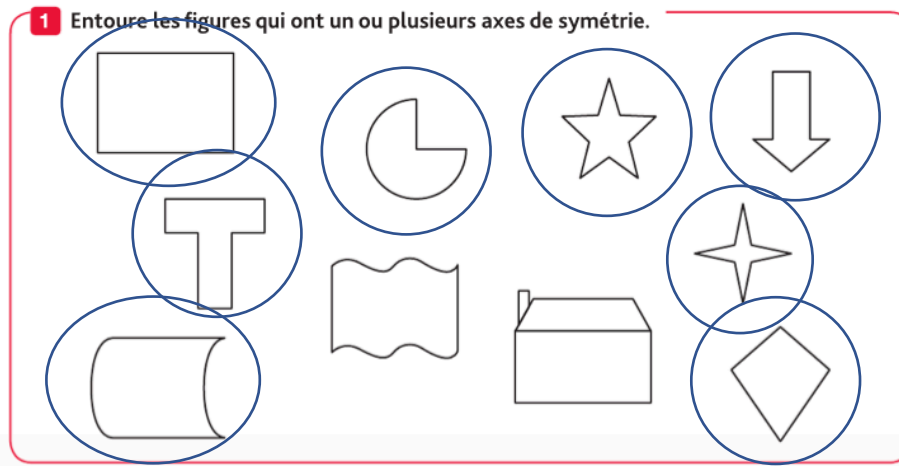
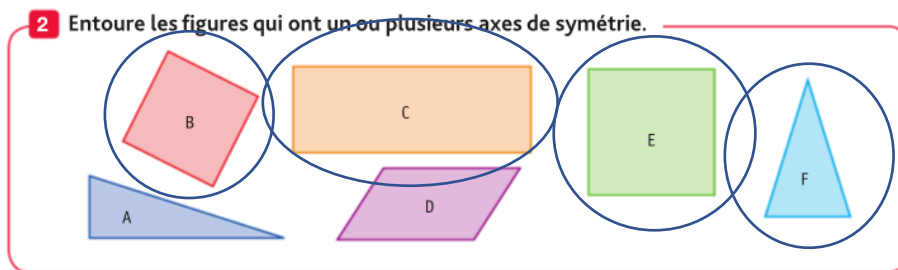


Ce1 géométrie

Ex 1 p 138



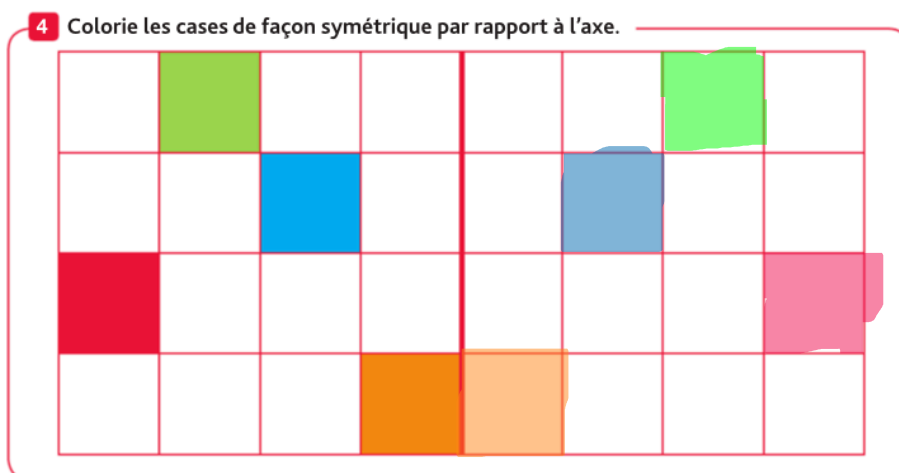
Ex 2 p 139



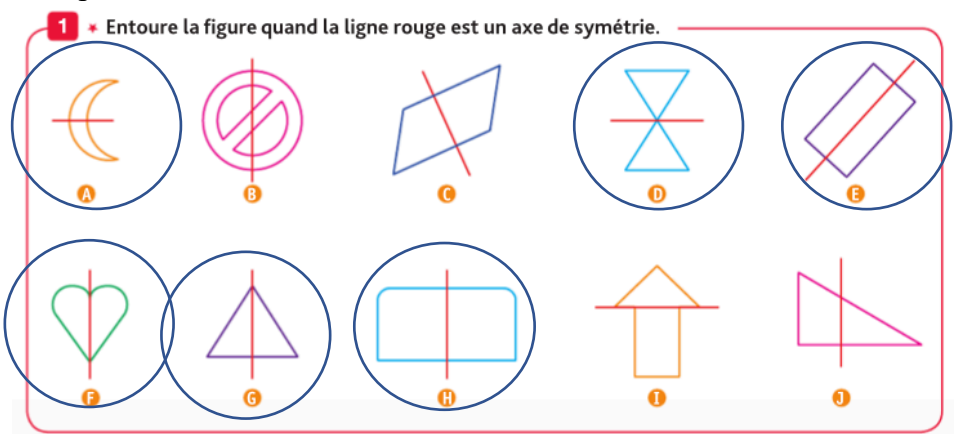
Ex 3 p 139 (pour les ce2)



Ex 4 p 139



Ex 1 p 134



+ exercices 2, 3 et 4 p 139 des cel

Ce1 numération

Ex 2 et 3 p 44

2 Relie les étiquettes.

431	400 + 10 + 3
314	300 + 10 + 4
413	400 + 30 + 1

3 Relie les étiquettes.

807	800 + 70
187	100 + 80 + 7
870	800 + 7

Ex 4 p 45

4 Relie les étiquettes.

369	61d 8u
618	6d 3c 9u
437	8u 2d 9c
928	4c 3d 7u

Ex 5 p 45

- a) 453
- b) 137
- c) 741
- d) 892
- e) 584

Ex 8 p 45

- a) $300 + 40 + 4$
- b) $500 + 7$
- c) $800 + 70$
- d) $80 + 9$

Ce2 numération

Ex 1 p 30

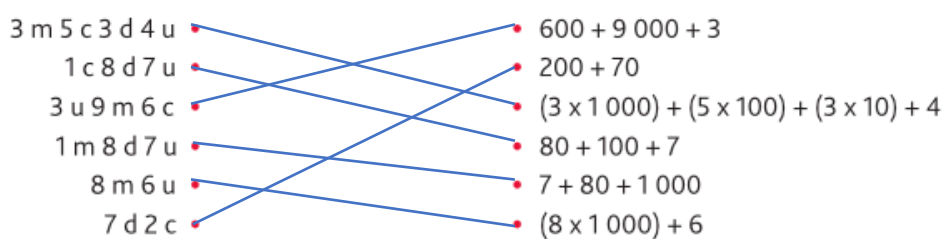
- a) $2\ 000 + 300 + 40 + 5$
- b) $9\ 000 + 500 + 90 + 9$
- c) $1\ 000 + 500 + 20 + 3$
- d) $7\ 000 + 800 + 60 + 9$
- e) $6\ 000 + 400 + 70 + 2$

Ex 2 p 30

- a) 4 223
- b) 6 355
- c) 7 038
- d) 2 090
- e) 8 200
- f) 1 001

Ex 5 p 31

5 ✂ Relie les décompositions égales.



Ex 8 p 31

8 ✂ Relie les décompositions égales.

